





Бөлімдік жиынтық бағалау

Төртінші тоқсан 1 сынып бойынша сауат ашу пәнінен «Тағам және сусын» тақырыбынан БЖБ қорытындысы. Сыныпта 12 оқушы бар. Әрқайсысына деңгейлеріне қарай берілді. Оқушылар тапсырмаларды ата-анасы көмегімен орындады.

Тапсырма №1

Суреттердің орнына тиісті сөздерді қойып, сөйлемдерді көшіріп жазыңыз.

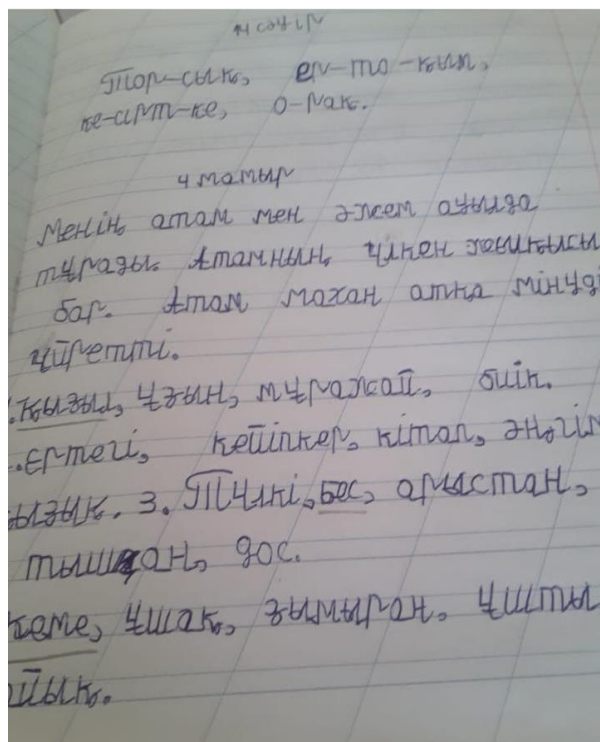
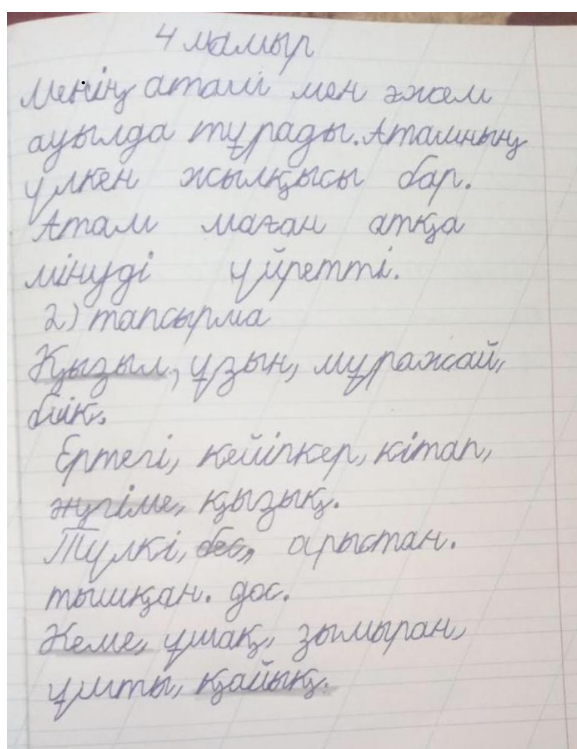
Менің  мен  ауылда тұрады. Атамның үлкен  бар.

 маған атқа мінуді үйретті.

Тапсырма №2

Сөздерді оқыңыз. Әр қатардағы артық сөзді қоршап сызыңыз. Сөзге сұрақ қойыңыз. Сол сөздермен сөйлем құрастырып жазыңыз.

1. Қызыл, ұзын, мұражай, биік.
2. Ертегі, кейіпкер, кітап, әңгіме, қызық.
3. Түлкі, бес, арыстан, тышқан, дос.
4. Кеме, ұшақ, зымыран, ұшты, қайық.





Жазу жолын, жоларалық кеңістікті және әріп элементтерін каллиграфиялық талаптары ескерілмеген яғни әлі де жұмыстар жүргізілуі керектігі байқалады. Дегенмен, барлық оқушы деңгейлеріне сай жұмыстар орындады

Бөлімдік жиынтық бағалау


Төртінші тоқсан 1 сынып бойынша математика пәнінен «Күнделікті өмірдегі есептеулер» бөлімі бойынша материалдар қамтылды. Әр оқушы ата-ана нұсқауымен жұмыс жасады.

Тапсырма

1. Салыстырыңыз.

2. Сәкен анасына арнап гүл шоғын сатып алды. Гүл шоғы 20 теңге тұрады. Сәкен бұл соманы қандай монеталармен төлей алады? Екі нұсқасын жазып көрсетіңіз. Бірдей монеталарды бірнеше рет қолдануға болады. Төмендегідей монеталарды қолданыңыз.



20 теңге = _____
20 теңге = _____

3. Есепті шығарыңыз.

Анам себетке 4 алма және одан 3-еуі артық алмұрт салды. Анам себетке неше алмұрт салды?

4. Алдында берілген есепке кері есеп құрастырыңыз және шығарыңыз.

Алма - д. } д.
Алмұрт - д. }

= (д.)

Жауабы:

5 нұсқаулар.

1) $2 < 20$
 $20 > 1, 1, 5, 5$

2) $20 = 10 + 10$
 $20 = 10 + 5 + 5$

10 10 10 10 10 10 10 10

5 нұсқаулар

1) $2 < 20$
 $20 > 1, 1, 5, 5, 5$

2) $20 = 2 + 2 + 1 + 5 + 10$
 $20 = 1 + 1 + 1 + 5 + 2 + 10$

3) Алма - 4
Алмұрт - 30 тымба

III: $4 + 3 = 7$
жауабы: себетке 7 алмұрт салды.

4) Алма - 48
Алмұрт - 78 } ? ғ

$4 + 7 = 11$
жауабы: 110

Қорытынды: қашықтан оқуда әр оқушы өз деңгейінде білім алды. Өтілген материалдарды балалардың көпшілігі игерді және оны өмірде пайдалануды үйренді. Дегенмен, әді де жұмыс жүргізу қажеттігі байқалады

